

SMD

SCUOLA MEDIA DIGITALE

La cronologia e la linea del tempo

Per comprendere i **fatti storici** e le loro **relazioni**, bisogna innanzitutto posizionarli correttamente nel tempo: per questo possiamo utilizzare la **linea del tempo**, uno strumento che impareremo a costruire assieme.

L'utilizzo corretto della linea del tempo ci permette di stabilire in modo preciso la **cronologia**, e cioè l'**ordine temporale** in cui si svolgono fatti e fenomeni storici.

Stabilire l'esatto ordine temporale dei fatti storici è importantissimo, perché ci permette di comprendere in modo corretto i **legami di causa ed effetto** che intercorrono tra di essi.

La cronologia e la linea del tempo

La **linea del tempo** è una linea orientata sulla quale vengono disposti i fatti storici partendo da sinistra (per i fatti più distanti da noi) verso destra (per i fatti più vicini a noi).

È una **linea orientata** perché, come vedi, a destra è presente un **freccia** che indica lo scorrere del tempo.



La cronologia e la linea del tempo

Posizioniamo, ad esempio, sulla **linea del tempo** l'anno in cui viviamo...



La cronologia e la linea del tempo

...il 2018: che cosa significa questo numero? Significa che stiamo vivendo nell'anno "2018 dopo la nascita di Cristo".



La cronologia e la linea del tempo

La nascita di Cristo è quindi l'avvenimento che prendiamo come **punto di riferimento** per contare gli anni della storia dell'umanità.



La cronologia e la linea del tempo

Quindi, noi viviamo nel 2018 "dopo Cristo", che deve essere indicato sulla linea del tempo a destra con la sigla **d.C.**



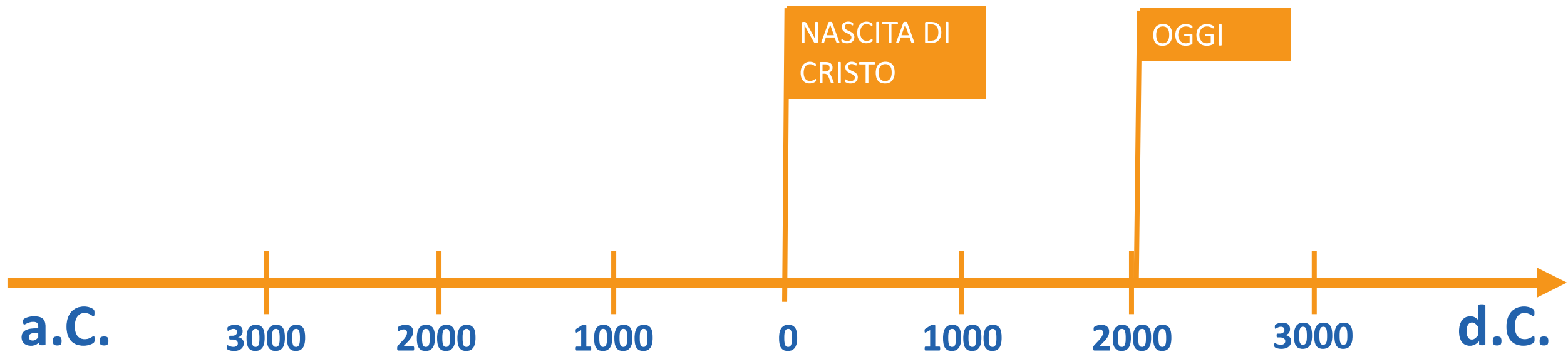
La cronologia e la linea del tempo

All'estremità sinistra della linea del tempo, prima dell'anno zero, scriveremo **a.C.**, che significa "avanti Cristo", e cioè "prima di Cristo"



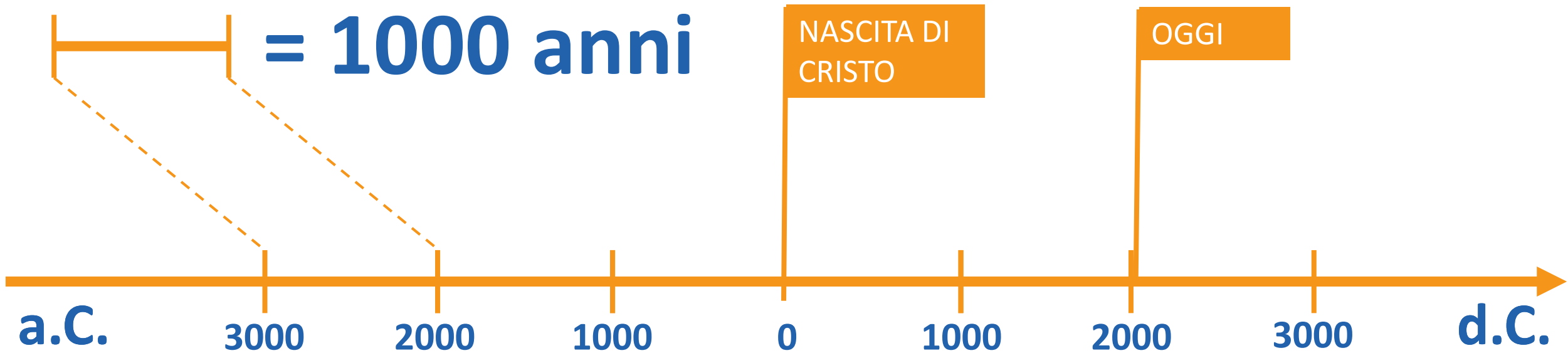
La cronologia e la linea del tempo

Sulla linea del tempo, l'intervallo tra gli anni, i secoli oppure i millenni deve essere rappresentato con la stessa distanza:



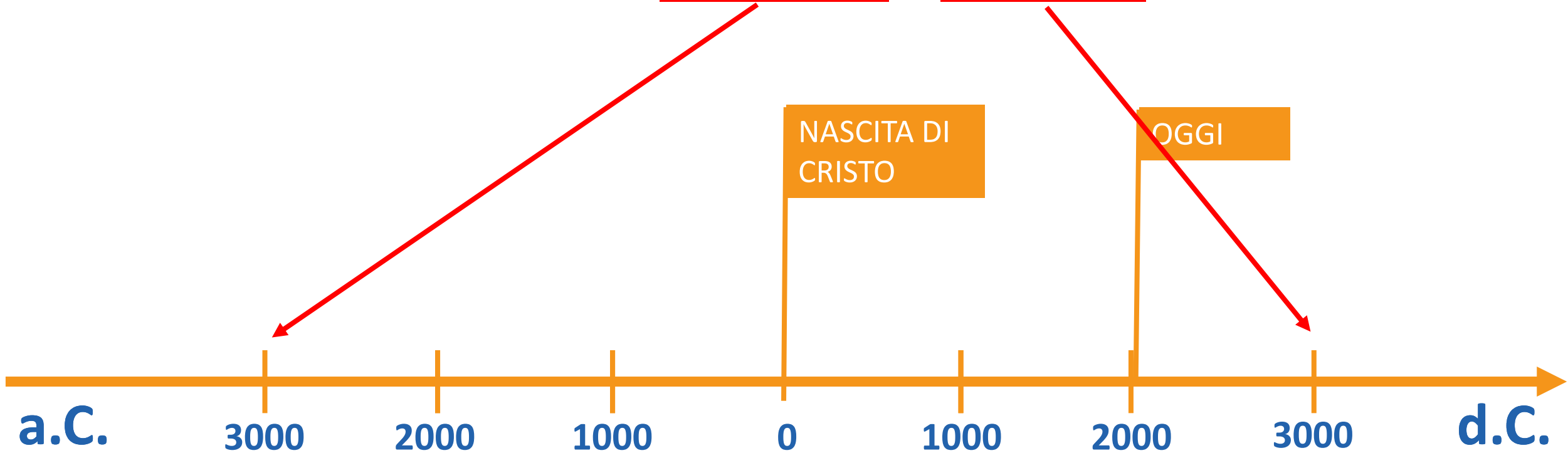
La cronologia e la linea del tempo

Nel nostro caso, ciascun segmento corrisponde ad un tempo di mille anni (un millennio):



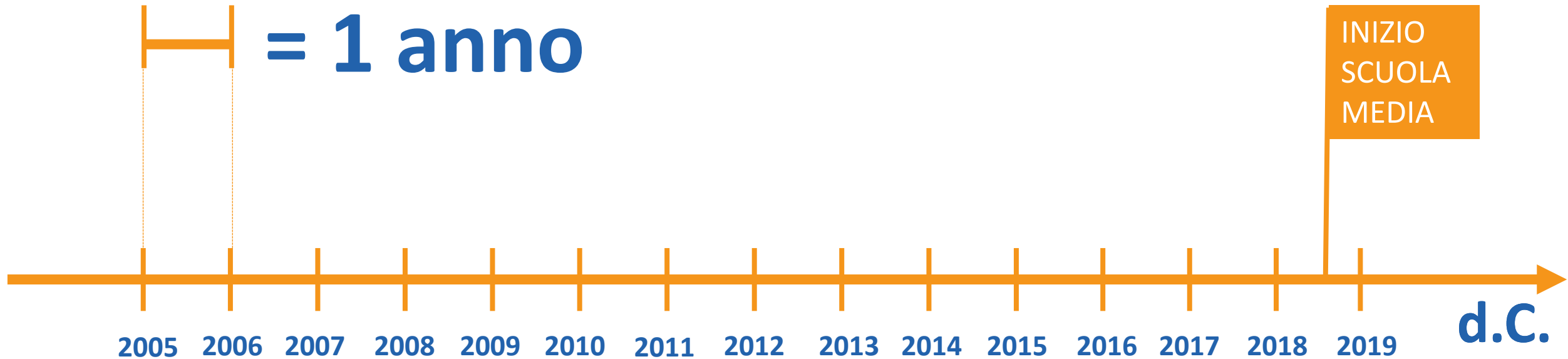
La cronologia e la linea del tempo

In questo modo, abbiamo costruito la nostra prima linea del tempo, che va dal 3.000 a.C. al 3000 d.C.



La cronologia e la linea del tempo

Se, ad esempio, dovessimo rappresentare sulla linea del tempo la tua vita, dovresti usare un'unità di misura diversa, come questa:



La cronologia e la linea del tempo

Proposte operative:

- 1. Costruisci una linea del tempo dal 400 a.C. al 600 d.C. e inserisci le seguenti date: 350 a.C. – 120 d.C. – 50 d.C. – 150 a.C. – 530 a.C.;**
- 2. Ricostruisci la linea del tempo della tua vita sul quaderno: aggiungi la tua data di nascita e tutte le altre date importanti che ricordi o che ti suggeriscono i tuoi familiari;**
- 3. Costruisci una linea del tempo riguardante la vita di uno dei tuoi genitori o dei tuoi nonni, facendo attenzione ad utilizzare un'unità di misura adeguata.**

La cronologia e la linea del tempo

Oggi abbiamo imparato...

- ✓ ...che cos'è una linea del tempo e a che cosa serve;
- ✓ ...a costruire una linea del tempo;
- ✓ ...ad individuare l'unità di misura temporale corretta per la linea del tempo;
- ✓ ...ad indicare in modo chiaro sulla linea del tempo il punto di riferimento dal quale si misurano gli anni.

S M : D

SCUOLA MEDIA DIGITALE