

The logo for Scuola Media Digitale (SMD) features the letters 'S', 'M', and 'D' in a large, bold, serif font. The 'S' and 'M' are blue, while the 'D' is orange. A colon is positioned between the 'M' and the 'D', with two orange dots stacked vertically to form the dots of the colon.

SMD

SCUOLA MEDIA DIGITALE

LA CRONOLOGIA E LA LINEA DEL TEMPO

PER COMPRENDERE I **FATTI STORICI** E LE LORO **RELAZIONI**, BISOGNA INNANZITUTTO POSIZIONARLI CORRETTAMENTE NEL TEMPO: PER QUESTO POSSIAMO UTILIZZARE LA **LINEA DEL TEMPO**, UNO STRUMENTO CHE IMPAREREMO A COSTRUIRE ASSIEME.

L'UTILIZZO CORRETTO DELLA LINEA DEL TEMPO CI PERMETTE DI STABILIRE IN MODO PRECISO LA **CRONOLOGIA**, E CIOÈ L'**ORDINE TEMPORALE** IN CUI SI SVOLGONO FATTI E FENOMENI STORICI.

STABILIRE L'ESATTO ORDINE TEMPORALE DEI FATTI STORICI È IMPORTANTISSIMO, PERCHÉ CI PERMETTE DI COMPRENDERE IN MODO CORRETTO I **LEGAMI DI CAUSA ED EFFETTO** CHE INTERCORRONO TRA DI ESSI.

LA CRONOLOGIA E LA LINEA DEL TEMPO

LA **LINEA DEL TEMPO** È UNA LINEA ORIENTATA SULLA QUALE VENGONO DISPOSTI I FATTI STORICI PARTENDO DA SINISTRA (PER I FATTI PIÙ DISTANTI DA NOI) VERSO DESTRA (PER I FATTI PIÙ VICINI A NOI).

È UNA **LINEA ORIENTATA** PERCHÉ, COME VEDI, A DESTRA È PRESENTE UN **FRECCIA** CHE INDICA LO SCORRERE DEL TEMPO.

FRECCIA



LA CRONOLOGIA E LA LINEA DEL TEMPO

POSIZIONIAMO, AD ESEMPIO, SULLA LINEA DEL TEMPO L'ANNO IN CUI VIVIAMO...



LA CRONOLOGIA E LA LINEA DEL TEMPO

...IL 2018: CHE COSA SIGNIFICA QUESTO NUMERO? SIGNIFICA CHE STIAMO VIVENDO NELL'ANNO "2018 DOPO LA NASCITA DI CRISTO".



La cronologia e la linea del tempo

La nascita di Cristo è quindi l'avvenimento che prendiamo come **punto di riferimento** per contare gli anni della storia dell'umanità.



La cronologia e la linea del tempo

Quindi, noi viviamo nel 2018 "dopo Cristo", che deve essere indicato sulla linea del tempo a destra con la sigla **d.C.**



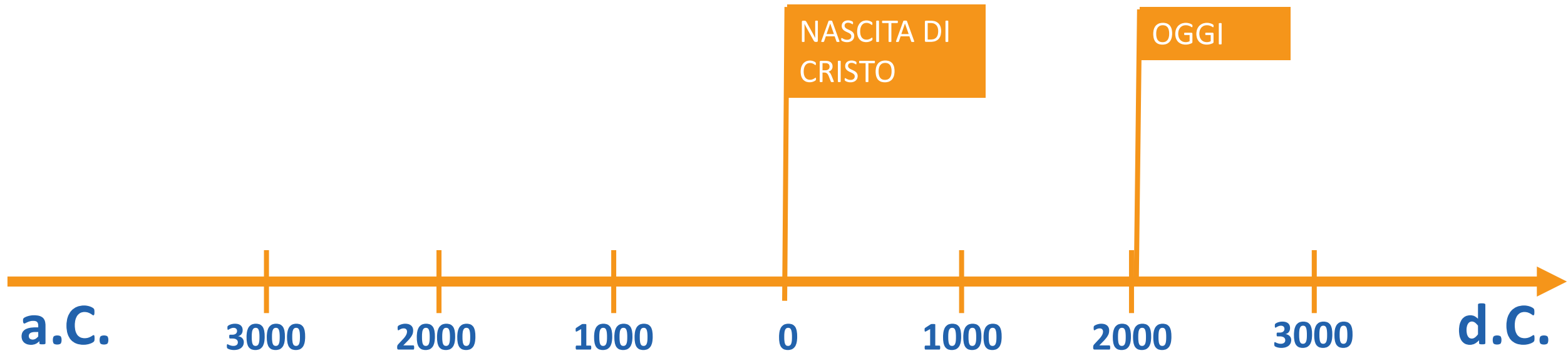
La cronologia e la linea del tempo

All'estremità sinistra della linea del tempo, prima dell'anno zero, scriveremo **a.C.**, che significa "avanti Cristo", e cioè "prima di Cristo"



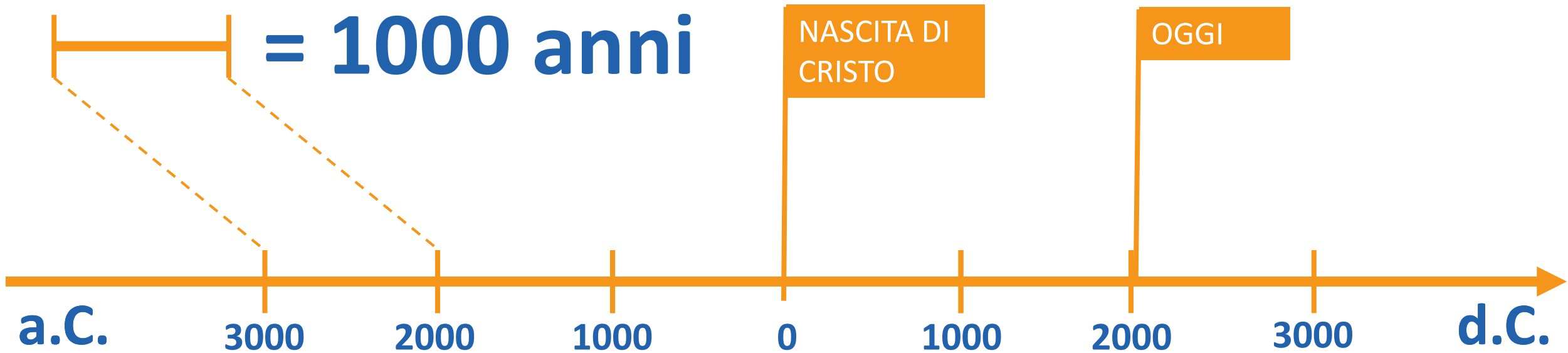
La cronologia e la linea del tempo

Sulla linea del tempo, l'intervallo tra gli anni, i secoli oppure i millenni deve essere rappresentata con la stessa distanza:



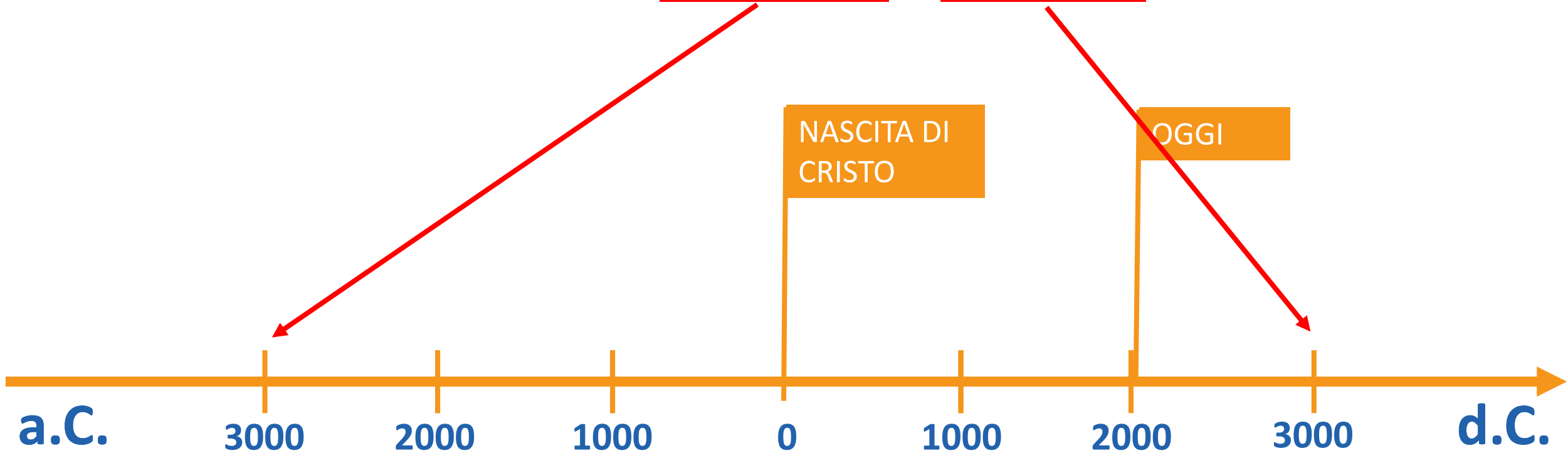
La cronologia e la linea del tempo

Nel nostro caso, ciascun segmento corrisponde ad un tempo di mille anni (un millennio):



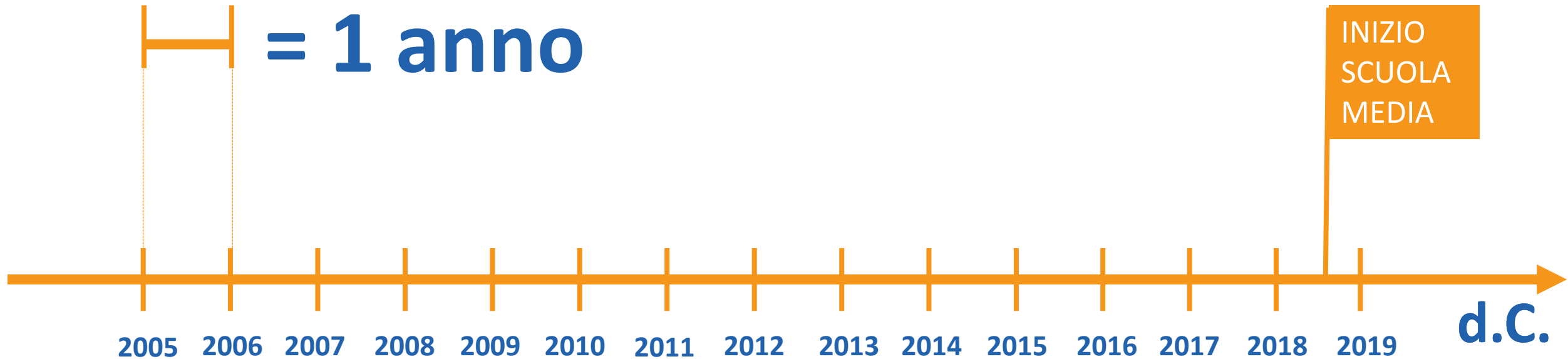
La cronologia e la linea del tempo

In questo modo, abbiamo costruito la nostra prima linea del tempo, che va dal 3.000 a.C. al 3000 d.C.



La cronologia e la linea del tempo

Se, ad esempio, dovessimo rappresentare sulla linea del tempo la tua vita, dovresti usare un'unità di misura diversa, come questa:



La cronologia e la linea del tempo

Proposte operative:

- 1. Costruisci una linea del tempo dal 400 a.C. al 600 d.C. e inserisci le seguenti date: 350 a.C. – 120 d.C. – 50 d.C. – 150 a.C. – 530 a.C.;**
- 2. Ricostruisci la linea del tempo della tua vita sul quaderno: aggiungi la tua data di nascita e tutte le altre date importanti che ricordi o che ti suggeriscono i tuoi familiari;**
- 3. Costruisci una linea del tempo riguardante la vita di uno dei tuoi genitori o dei tuoi nonni, facendo attenzione ad utilizzare un'unità di misura adeguata.**

La cronologia e la linea del tempo

Oggi abbiamo imparato...

- ✓ ...che cos'è una linea del tempo e a che cosa serve;
- ✓ ...a costruire una linea del tempo;
- ✓ ...ad individuare l'unità di misura temporale corretta per la linea del tempo;
- ✓ ...ad indicare in modo chiaro sulla linea del tempo il punto di riferimento dal quale si misurano gli anni.

SMD

SCUOLA MEDIA DIGITALE