

The logo for Scuola Media Digitale (SMD) features the letters 'S', 'M', and 'D' in a large, bold, serif font. The 'S' and 'M' are blue, while the 'D' is orange. A colon is positioned between the 'M' and the 'D', with two orange dots stacked vertically to form the colon's dots.

SMD

SCUOLA MEDIA DIGITALE

# La cronologia

Nello studio della storia di quest'anno scolastico, le unità di misura del tempo che utilizzeremo maggiormente sono i **millenni**, i **secoli** e i **decenni**:

- ✓ un **millennio** è un periodo di tempo lungo **mille anni**;
- ✓ un **secolo** è un periodo di tempo lungo **cento anni**;
- ✓ un **decennio** è un periodo di tempo lungo **dieci anni**.

Proviamo quindi a rappresentarli su una **linea del tempo**.

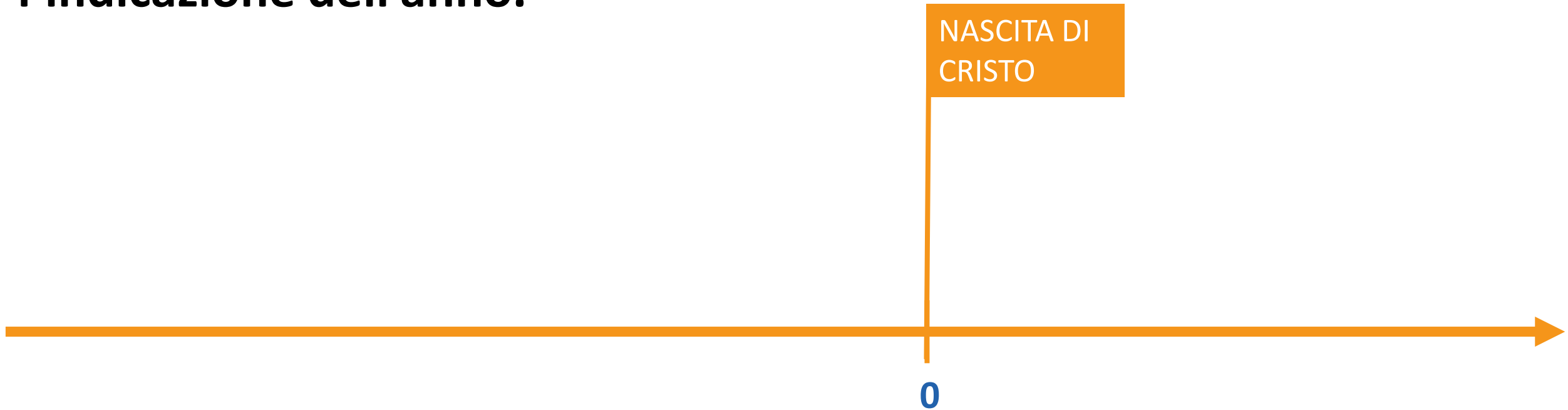
# La cronologia

L'obiettivo che ci poniamo ora è il seguente: costruire correttamente una linea del tempo partendo dal 5.000 a.C. per arrivare al 3.000 d.C. Il primo passo che dobbiamo fare è quello di **(1) disegnare la nostra linea orientata**, con una freccia all'estremità destra che indica lo scorrere del tempo:



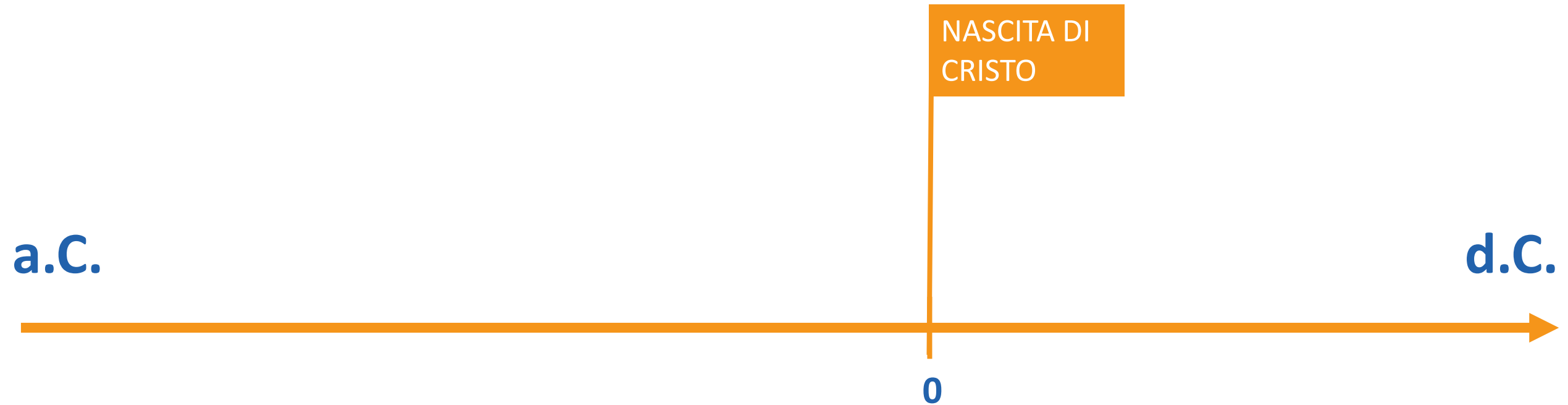
# La cronologia

Successivamente (2) fissiamo il punto di riferimento della nascita di Cristo al centro della linea, leggermente spostato verso destra, con l'indicazione dell'anno.



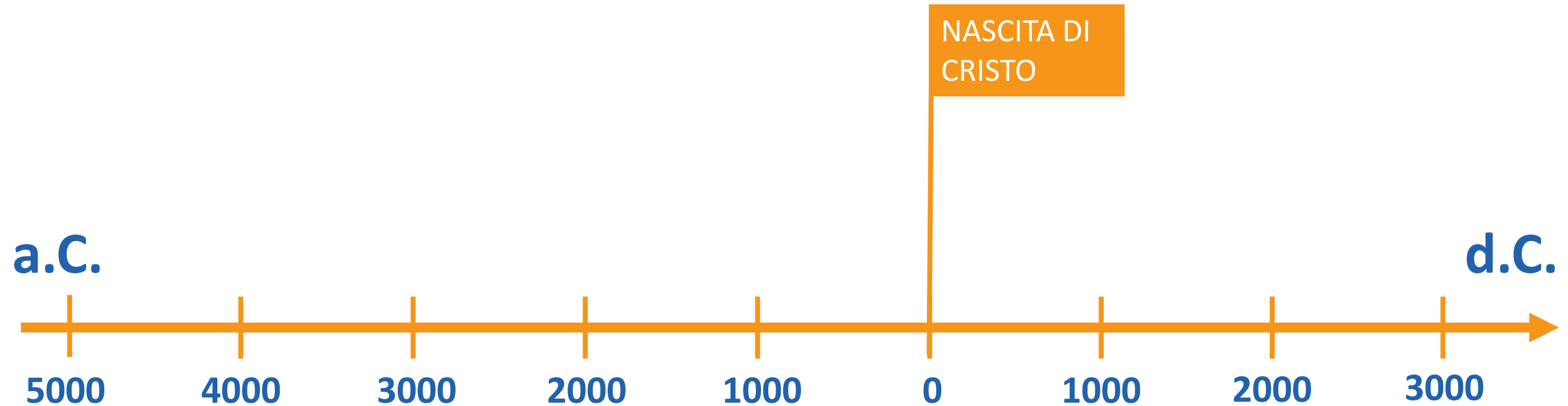
# La cronologia

Alle estremità della linea del tempo (3) **indichiamo** in modo chiaro "**avanti Cristo**" e "**dopo Cristo**", utilizzando le abbreviazioni corrette.



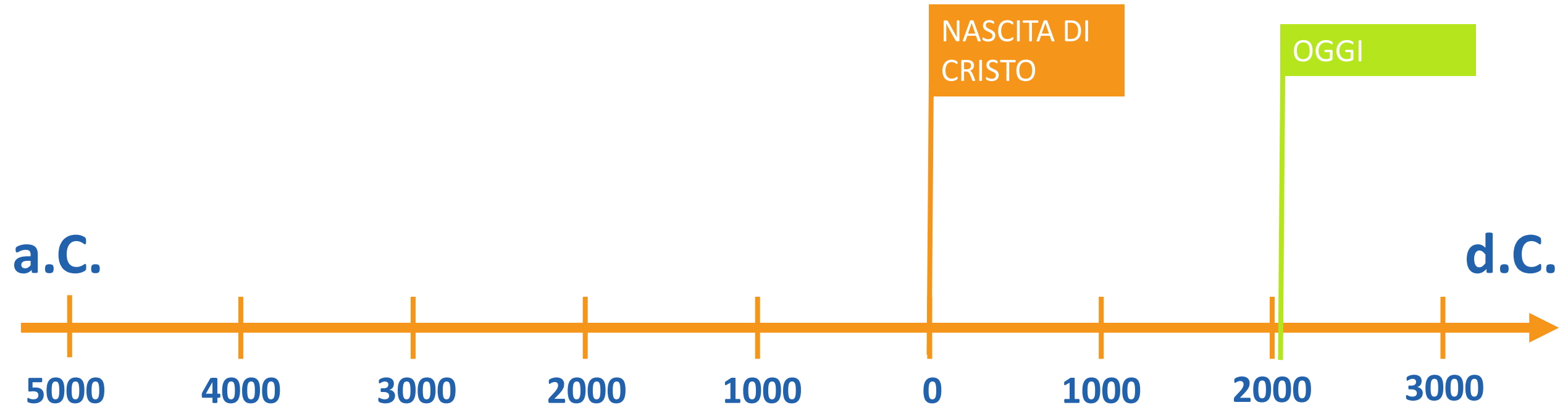
# La cronologia

In corrispondenza dell'inizio e della fine di ciascun millennio, (5) riportiamo la data corretta.



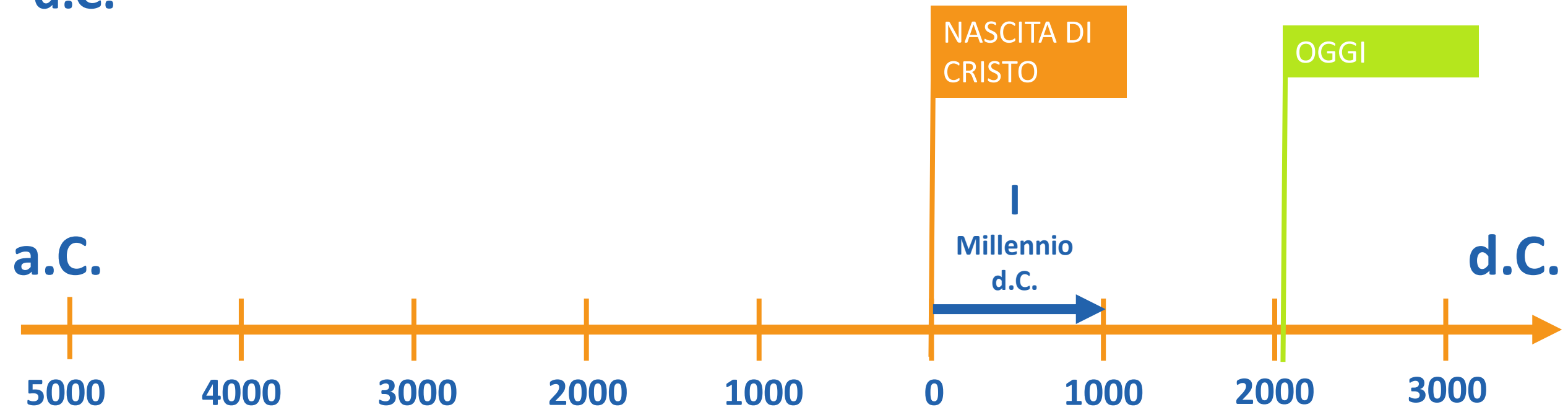
# La cronologia

A questo punto la nostra linea del tempo è quasi completa: possiamo **(6) aggiungere l'anno in corso:**



# La cronologia

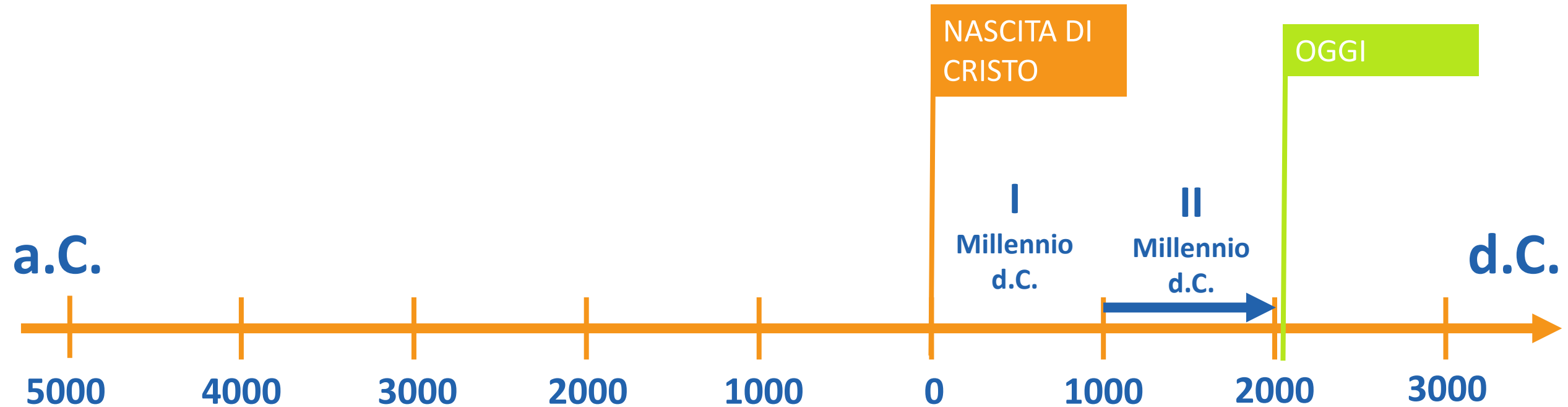
Passiamo quindi a **(7) numerare ciascun millennio**: come si può vedere, il **I millennio d.C.** inizia il **1 d.C.** e si conclude alla **fine del 999 d.C.**





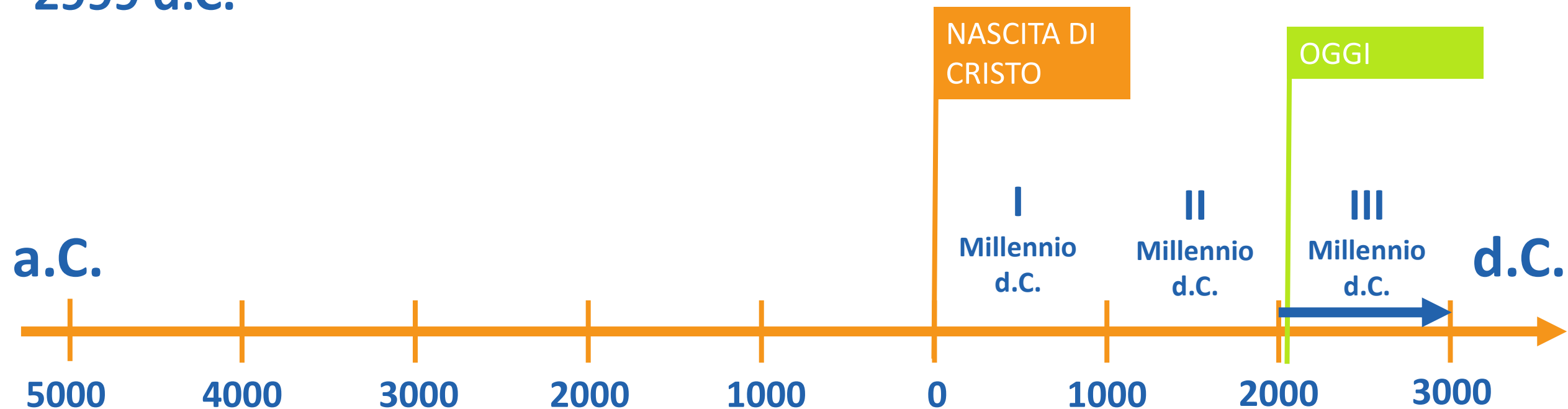
# La cronologia

Analogamente, il II millennio d.C. inizia il 1000 d.C. e si conclude alla fine del 1999 d.C.



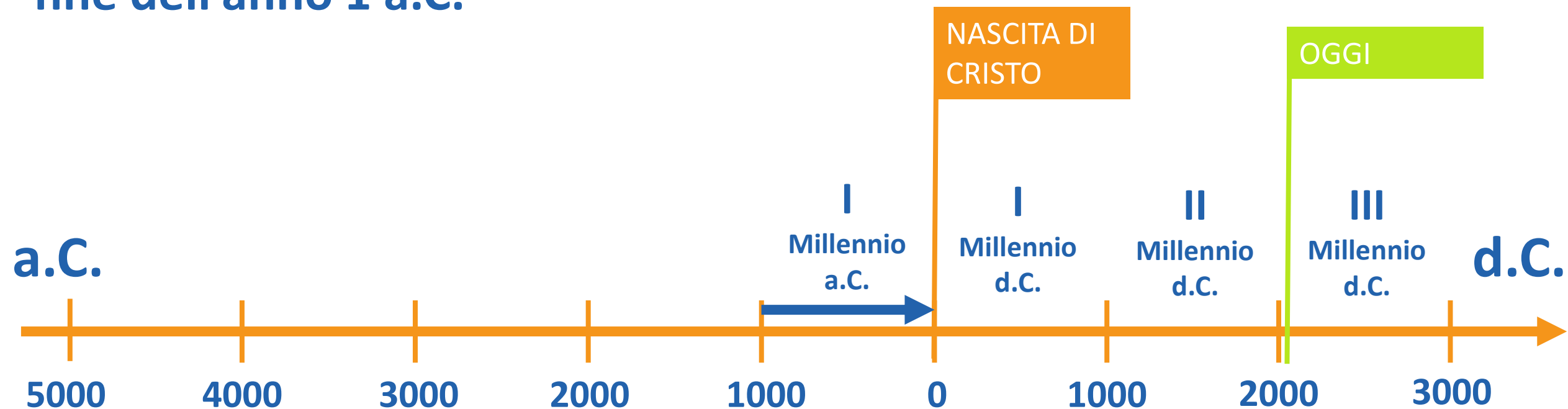
# La cronologia

Di conseguenza, noi stiamo vivendo l'inizio del **III millennio d.C.**, iniziato il **1 gennaio del 2000 d.C.** e che si concluderà alla **fine del 2999 d.C.**



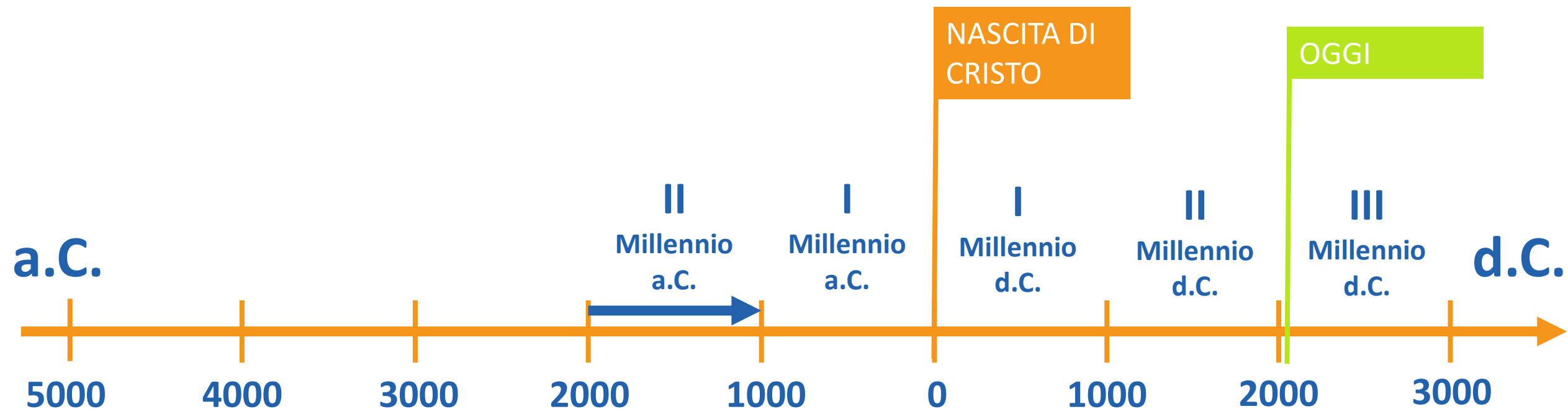
# La cronologia

Per quanto riguarda i millenni prima della nascita di Cristo, il **I millennio a.C.** inizia il 1 gennaio del **1000 a.C.** e si conclude alla fine dell'anno **1 a.C.**



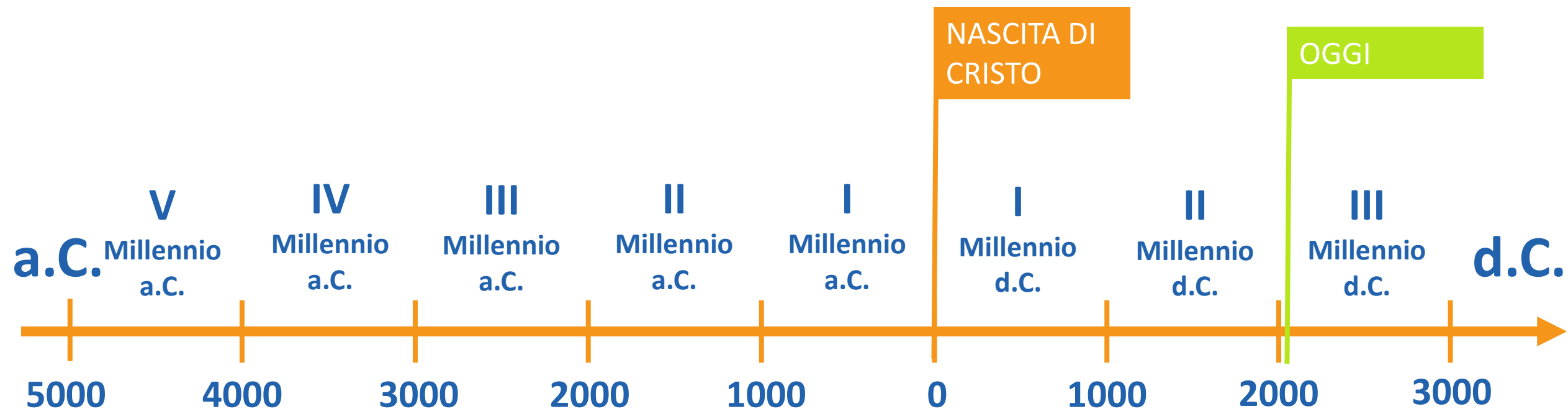
# La cronologia

Andando indietro nel tempo, il **II millennio a.C.** inizia nel 2000 a.C. e si conclude nel 1001 a.C.




# La cronologia

Procedendo a ritroso, abbiamo numerato tutti i millenni, dal quinto a.C. al terzo d.C.



# La cronologia

Costruiamo, in modo simile, una linea del tempo che riguarda i secoli, ed in particolare dal IV sec. a.C. all'XI sec. d.C.



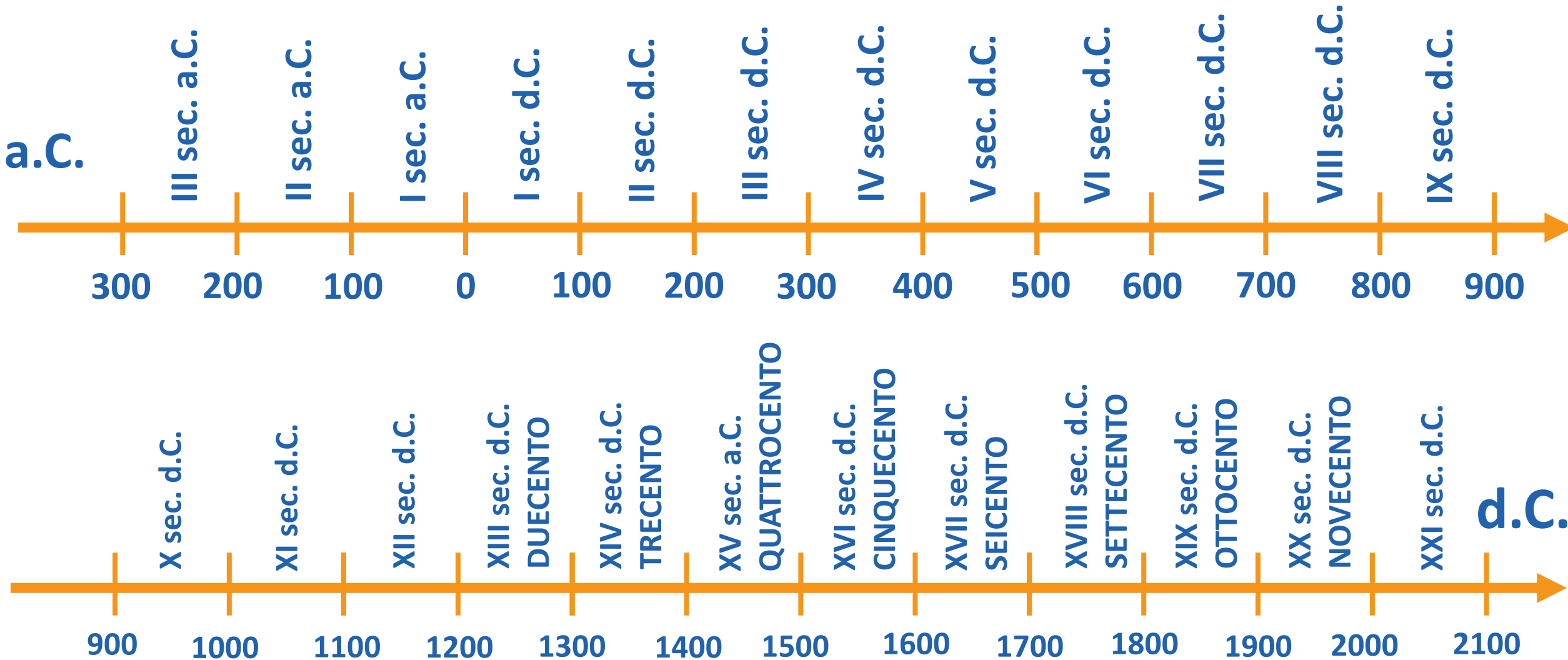
# La cronologia

I secoli dopo l'anno 1000 d.C., dal XIII al XX, possono essere anche denominati con i **numerali cardinali** che indicano le centinaia:

<b>Secolo:</b>	<b>Anno di inizio:</b>	<b>Anno di fine:</b>
XIII sec. o <b>Duecento</b>	1200 d.C.	1299 d.C.
XIV sec. o <b>Trecento</b>	1300 d.C.	1399 d.C.
XV sec. o <b>Quattrocento</b>	1400 d.C.	1499 d.C.
XVI sec. o <b>Cinquecento</b>	1500 d.C.	1599 d.C.
XVII sec. o <b>Seicento</b>	1600 d.C.	1699 d.C.
XVIII sec. o <b>Settecento</b>	1700 d.C.	1799 d.C.
XIX sec. o <b>Ottocento</b>	1800 d.C.	1899 d.C.
XX sec. o <b>Novecento</b>	1900 d.C.	1999 d.C.

Nella prossima slide troverai una linea del tempo completa dal III sec. a.C. al XXI sec. d.C.

# La cronologia





# La cronologia

**Proposta operativa:** sul tuo quaderno, scrivi accanto a ciascuna data che segue il secolo a cui appartiene, scrivendolo sia in numeri romani che per esteso (quanto è possibile, in entrambe le forme).

**In caso di incertezza utilizza SEMPRE la linea del tempo che hai appena visualizzato. Ecco tre esempi su come deve essere svolto l'esercizio:**

<b>1221 d.C.:</b>	XIII sec. d.C	Tredicesimo sec. d.C.	Trecento
<b>340 a.C.:</b>	IV sec. a.C	Quarto sec. a.C.	
<b>632 d.C.:</b>	VII sec. d.C.	Settimo sec. d.C.	

1066 d.C.

1789 d.C.

732 a.C.

1492 d.C.

1945 d.C.

145 a.C.

476 d.C.

250 a.C.

1515 d.C.

530 d.C.

410 a.C.

31 a.C.

The logo for Scuola Media Digitale (SMD) features the letters 'S', 'M', and 'D' in a large, bold, serif font. The 'S' and 'M' are blue, while the 'D' is orange. A colon is positioned between the 'M' and the 'D', with two orange dots stacked vertically to form the colon's dots.

SMD

SCUOLA MEDIA DIGITALE